

L'ENQUÊTE DE



LA SEMAINE

Mène ton enquête et trouve les indices pour résoudre le mystère de la semaine :

Quel nuage a provoqué cette pluie de grêle ?


Réalise chaque jeu des pages suivantes pour trouver tous les indices. Reviens ensuite noter chaque réponse ici pour obtenir la réponse à la question.


	Indice 2																																																			
<table border="1" style="width: 20px; height: 20px; margin: 5px;"><tr><td> </td><td> </td></tr></table> 12 3			<table border="1" style="width: 40px; height: 20px; margin: 5px;"><tr><td> </td><td> </td><td> </td><td> </td><td> </td><td> </td></tr></table> 11 9 1 12 1							<table border="1" style="width: 40px; height: 20px; margin: 5px;"><tr><td> </td><td> </td><td> </td><td> </td><td> </td></tr></table> 10 9 1 6 14						<table border="1" style="width: 80px; height: 20px; margin: 5px;"><tr><td> </td><td> </td><td> </td><td> </td><td> </td><td> </td><td> </td><td> </td><td> </td><td> </td><td> </td></tr></table> 6 3 4 8 8 3 6 15 1												<table border="1" style="width: 40px; height: 20px; margin: 5px;"><tr><td> </td><td> </td><td> </td></tr></table> 14 3 6 8				<table border="1" style="width: 40px; height: 20px; margin: 5px;"><tr><td> </td><td> </td><td> </td></tr></table> 12 1 8																				
Indice 1	Indice 3																																																			
<table border="1" style="width: 40px; height: 20px; margin: 5px;"><tr><td> </td><td> </td><td> </td><td> </td><td> </td><td> </td><td> </td></tr></table> 6 2 3 11 1 8								<table border="1" style="width: 80px; height: 20px; margin: 5px;"><tr><td> </td><td> </td><td> </td><td> </td><td> </td><td> </td><td> </td><td> </td><td> </td><td> </td><td> </td><td> </td><td> </td><td> </td><td> </td><td> </td><td> </td></tr></table> 4 6 8 13 3 16 12 1 8																		<table border="1" style="width: 40px; height: 20px; margin: 5px;"><tr><td> </td><td> </td><td> </td></tr></table> 12 1 8				<table border="1" style="width: 40px; height: 20px; margin: 5px;"><tr><td> </td><td> </td><td> </td><td> </td><td> </td><td> </td><td> </td><td> </td></tr></table> 11 9 1 12 5 6 8									<table border="1" style="width: 60px; height: 20px; margin: 5px;"><tr><td> </td><td> </td><td> </td><td> </td><td> </td><td> </td><td> </td><td> </td><td> </td><td> </td><td> </td></tr></table> 10 1 2 v 1 6 13													
		Indice 4																																																		
<table border="1" style="width: 40px; height: 20px; margin: 5px;"><tr><td> </td><td> </td><td> </td><td> </td><td> </td><td> </td><td> </td><td> </td></tr></table> 7 1 8 2 9 1 9									<table border="1" style="width: 40px; height: 20px; margin: 5px;"><tr><td> </td><td> </td></tr></table> 14 1			<table border="1" style="width: 40px; height: 20px; margin: 5px;"><tr><td> </td><td> </td><td> </td><td> </td><td> </td><td> </td><td> </td><td> </td></tr></table> 17 2 1 12 17 2 1 8									<table border="1" style="width: 80px; height: 20px; margin: 5px;"><tr><td> </td><td> </td><td> </td><td> </td><td> </td><td> </td><td> </td><td> </td><td> </td><td> </td><td> </td><td> </td><td> </td><td> </td><td> </td><td> </td><td> </td></tr></table> 7 4 12 12 4 7 1 13 9 1 8																		<table border="1" style="width: 20px; height: 20px; margin: 5px;"><tr><td> </td><td> </td></tr></table> 3													
<table border="1" style="width: 40px; height: 20px; margin: 5px;"><tr><td> </td><td> </td><td> </td><td> </td><td> </td><td> </td><td> </td><td> </td><td> </td><td> </td><td> </td><td> </td><td> </td><td> </td><td> </td><td> </td><td> </td><td> </td></tr></table> 10 12 2 8 4 1 2 9 8																			<table border="1" style="width: 40px; height: 20px; margin: 5px;"><tr><td> </td><td> </td><td> </td><td> </td><td> </td><td> </td><td> </td><td> </td><td> </td><td> </td><td> </td><td> </td><td> </td><td> </td><td> </td><td> </td><td> </td><td> </td></tr></table> 15 1 6 13 4 7 1 13 9 1 8																			<table border="1" style="width: 40px; height: 20px; margin: 5px;"><tr><td> </td><td> </td></tr></table> 12 1			<table border="1" style="width: 40px; height: 20px; margin: 5px;"><tr><td> </td><td> </td><td> </td><td> </td></tr></table> 10 12 2 8					<table border="1" style="width: 40px; height: 20px; margin: 5px;"><tr><td> </td><td> </td><td> </td><td> </td></tr></table> 11 9 5 8						
		Indice 5																																																		
<table border="1" style="width: 40px; height: 20px; margin: 5px;"><tr><td> </td><td> </td><td> </td><td> </td><td> </td><td> </td></tr></table> 11 9 1 12 5 6							<table border="1" style="width: 40px; height: 20px; margin: 5px;"><tr><td> </td><td> </td><td> </td><td> </td><td> </td><td> </td><td> </td><td> </td></tr></table> 9 1 13 9 5 2 18 1									<table border="1" style="width: 40px; height: 20px; margin: 5px;"><tr><td> </td><td> </td><td> </td><td> </td><td> </td><td> </td><td> </td><td> </td></tr></table> 7 1 8 2 9 3 4 13									<table border="1" style="width: 20px; height: 20px; margin: 5px;"><tr><td> </td><td> </td></tr></table> 15 7			<table border="1" style="width: 20px; height: 20px; margin: 5px;"><tr><td> </td><td> </td></tr></table> !																								
<table border="1" style="width: 40px; height: 20px; margin: 5px;"><tr><td> </td><td> </td><td> </td><td> </td><td> </td><td> </td><td> </td><td> </td><td> </td><td> </td><td> </td><td> </td><td> </td><td> </td><td> </td><td> </td><td> </td><td> </td></tr></table> 11 1 6 1 9 3 12 1 7 1 6 13																			<table border="1" style="width: 40px; height: 20px; margin: 5px;"><tr><td> </td><td> </td><td> </td></tr></table> 4 12 8				<table border="1" style="width: 40px; height: 20px; margin: 5px;"><tr><td> </td><td> </td></tr></table> 8 1			<table border="1" style="width: 40px; height: 20px; margin: 5px;"><tr><td> </td><td> </td><td> </td><td> </td><td> </td><td> </td><td> </td><td> </td><td> </td><td> </td><td> </td><td> </td><td> </td><td> </td><td> </td><td> </td><td> </td><td> </td></tr></table> 19 5 9 7 1 6 13																			<table border="1" style="width: 40px; height: 20px; margin: 5px;"><tr><td> </td><td> </td><td> </td><td> </td></tr></table> 14 3 6 8					<table border="1" style="width: 40px; height: 20px; margin: 5px;"><tr><td> </td><td> </td></tr></table> 2 6		
		Indice 6																																																		
<table border="1" style="width: 40px; height: 20px; margin: 5px;"><tr><td> </td><td> </td><td> </td><td> </td><td> </td></tr></table> 6 2 3 11 1						<table border="1" style="width: 40px; height: 20px; margin: 5px;"><tr><td> </td><td> </td><td> </td><td> </td><td> </td><td> </td><td> </td><td> </td><td> </td><td> </td><td> </td><td> </td><td> </td><td> </td><td> </td><td> </td><td> </td><td> </td></tr></table> 10 3 9 13 4 15 2 12 4 1 9																			<table border="1" style="width: 40px; height: 20px; margin: 5px;"><tr><td> </td><td> </td><td> </td><td> </td><td> </td></tr></table> 3 10 10 1 12 1						<table border="1" style="width: 80px; height: 20px; margin: 5px;"><tr><td> </td><td> </td><td> </td><td> </td><td> </td><td> </td><td> </td><td> </td><td> </td><td> </td><td> </td><td> </td><td> </td><td> </td><td> </td><td> </td><td> </td><td> </td></tr></table> 15 2 7 2 12 5 6 4 7 16 2 8																			<table border="1" style="width: 20px; height: 20px; margin: 5px;"><tr><td> </td><td> </td></tr></table> .		


INDICE 1




Voici la carte météorologique du jour. Compte le nombre de soleils, de nuages, de nuages de pluie et de temps ensoleillés dans tout le pays. Note le résultat en bas. Le temps le plus présent en France te donnera le premier indice.









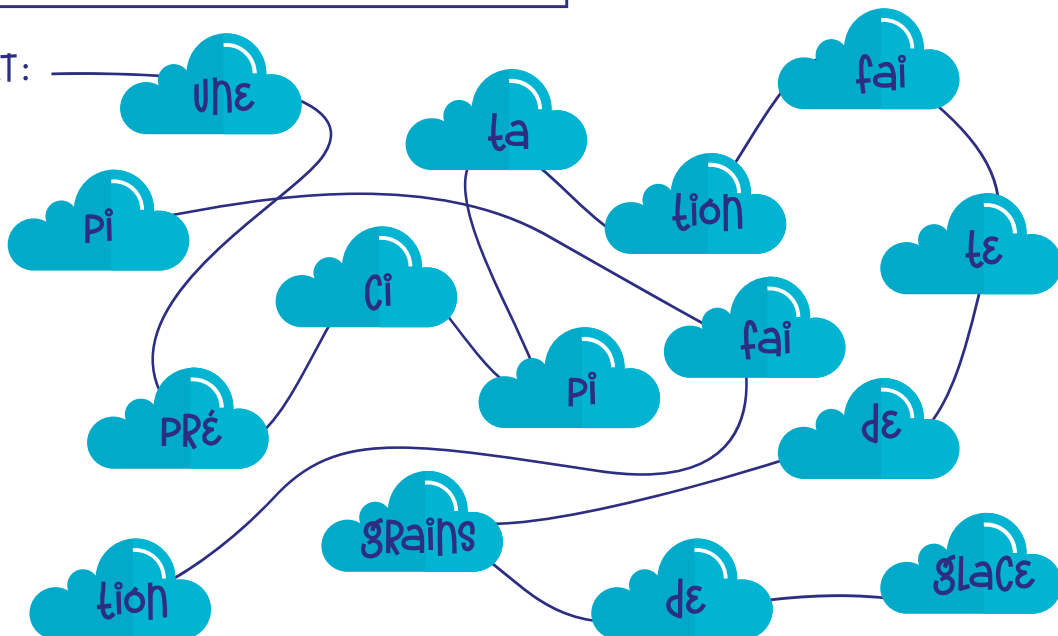
RÉPONSE :

INDICE 2




Suis le fil qui relie les bulles et réponds à la question. Tu trouveras alors le deuxième indice.

DÉPART :



RÉPONSE :

--	--	--	--	--



INDICE 3

Quel temps fait-il aujourd'hui ? Pour le découvrir, suis le chemin indiqué par les flèches en partant du premier nuage, en haut à gauche.



Il y a-t-il :

- du soleil ?
- de la pluie ?
- des grêlons ?
- des nuages ?

RÉPONSE :

--	--	--	--	--	--

INDICE 4



Aide l'étoile à retrouver son nuage de nuit pour bien dormir. Récolte au passage toutes les lettres que tu trouveras.

The maze contains the following letters in circles: b, g, c, l, m, a, e, o, i, m, i, l, i, t, q, f, p, u, h, m, r, r, e, w, s, s, t.

RÉPONSE :

INDICE 5



Aide le hibou à traverser ce ciel nuageux. Il ne doit passer que par les nuages dont le résultat donne un nombre paire. L'indice 5 se trouve dans le troisième nuage sur le passage du hibou.



Clouds containing math problems:

- 3×4
- $14 + 5$
- 7×3
- $22 - 6$
- $11 + 8$
- $14 - 7$
- $12 + 8$
- 2×8
- $10 + 4$
- 10×10
- 8×4
- $8 - 6$

RÉPONSE (EN CHIFFRES) :

--	--



INDICE 6

Suis le fil conducteur de ce labyrinthe et récolte les lettres pour trouver le dernier indice.

Maze with numbers and icons:


- Start: Moon icon
- End: Sun icon
- Numbers: 4, 11, 12, 10, 2, 6, 1, 7, 8, 5
- Obstacles: Cloud, Star, Ball

RÉPONSE :



		M						M			
1	2		4	5	6	7	8		10	11	12

LES SOLUTIONS



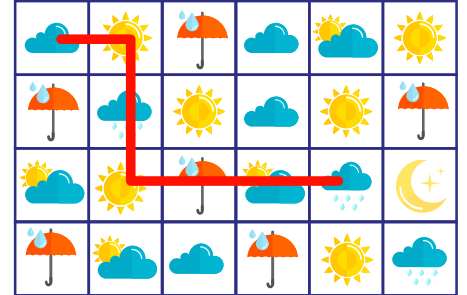
INDICE 1: NUAGES

12 15 7 7

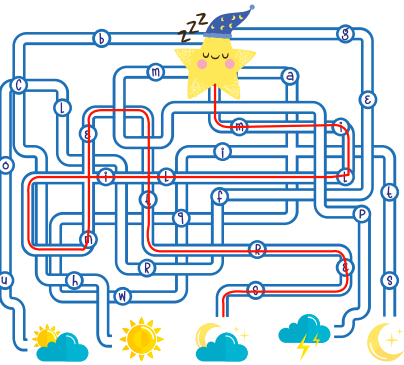
INDICE 2: GRÊLE

Une précipitation faite de grains de glace ?
Réponse : la grêle.

INDICE 3: GRÊLONS



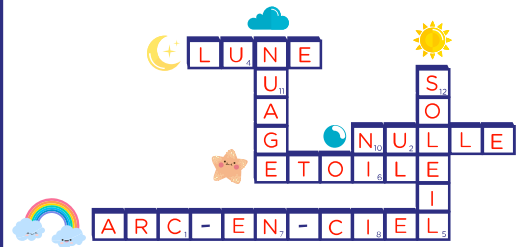
INDICE 4: MILLIMÈTRES



INDICE 5: 20

3×4 $14 + 5$ 7×3
 $22 - 6$ $11 + 8$ $14 - 7$
 $12 + 8$ 2×8 $10 + 4$
 10×10 8×4 $8 - 6$

INDICE 6: CUMULONIMBUS



LA **GRELE** PREND NAISSANCE DANS LES
12 3 11 9 1 12 1 10 9 1 6 14 6 3 4 8 8 3 6 15 1 14 3 6 8 12 1 8

NUAGES INSTABLES. LES **GRÊLONS** PEUVENT
6 2 3 11 1 8 4 6 8 13 3 16 12 1 8 12 1 8 11 9 1 12 5 6 8 10 1 2 1 6 13

MESURER DE QUELQUES **MILLIMÈTRES** A
7 1 8 2 9 1 9 14 1 17 2 1 12 17 2 1 8 7 4 12 12 4 7 1 13 9 1 8 3

PLUSIEURS CENTIMÈTRES. LE PLUS GROS
10 12 2 8 4 1 2 9 8 15 1 6 13 4 7 1 13 9 1 8 12 1 10 12 2 8 11 9 5 8

GRÊLON RETROUVE MESURAIT **20** CM!
11 9 1 12 5 6 9 1 13 9 5 2 18 1 7 1 8 2 9 3 4 13 15 7

GÉNÉRALEMENT ILS SE FORMENT DANS UN
11 1 6 1 9 3 12 1 7 1 6 13 4 12 8 8 1 19 5 9 7 1 6 13 14 3 6 8 2 6

NUAGE PARTICULIER APPELÉ **CUMULONIMBUS**.
6 2 3 11 1 10 3 9 13 4 15 2 12 4 1 9 3 10 10 1 12 1 15 2 7 2 12 5 6 4 7 16 2 8