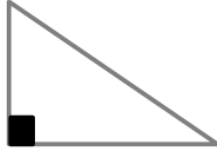


Une figure qui a trois côtés est un triangle.

triangle rectangle



Un triangle rectangle a deux côtés perpendiculaires.

triangle isocèle



Un triangle isocèle a deux côtés de même longueur.

triangle équilatéral



Un triangle équilatéral a trois côtés de même longueur.


triangle quelconque



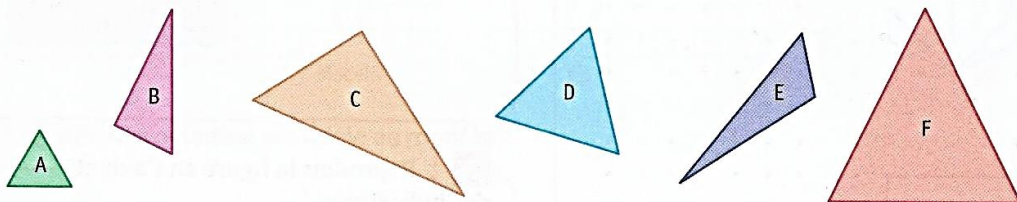
Un triangle quelconque a trois côtés de longueurs différentes.

Reconnaitre, décrire et nommer le triangle et ses cas particuliers

1 * Entoure les triangles isocèles.



2 * Entoure les triangles équilatéraux.



Reproduire et tracer un triangle rectangle, un cercle

3 * Trace :

a. un triangle ABC, rectangle en B ;
AB = 2 cm et BC = 5 cm.

b. un triangle DEF, rectangle en E ;
DE = 3 cm et EF = 6 cm.