

**Vocabulaire :**

**périmètre** : nom masculin. Ligne qui délimite le contour d'une figure plane. *Le périmètre d'un cercle.*

**Orthographe :**

Lisa prépare **ses** exposés d'histoire grâce à **ces** livres empruntés à la bibliothèque.

**Ses** amis sont **ces** garçons qui parlent devant le portail de l'école.

**Ces** jeunes filles sont **ses** cousines.

**Ces** roses que tu vois sont **ses** fleurs préférées.

**Conjugaison :**

Les sportifs **s'entraîneront** intensivement puis **se reposeront**.

Tu **observais** la figure géométrique et tu **réussissais** sa construction.

La semaine dernière, nous avons commencé le passé composé.

J'étais content, car j'ai tout compris. (Attention ! Il ne fallait pas souligner « tout » qui ne fait pas partie du verbe.)

**Calcul :**

$31 : 4 = 7 \rightarrow \text{reste} = 3 \text{ car } 31 = (7 \times 4) + 3$

$52 : 9 = 5 \rightarrow \text{reste} = 7 \text{ car } 52 = (5 \times 9) + 7$

$37 : 3 = 12 \rightarrow \text{reste} = 1 \text{ car } 37 = (12 \times 3) + 1$

$76 : 8 = 9 \rightarrow \text{reste} = 4 \text{ car } 76 = (9 \times 8) + 4$

$208 : 10 = 20 \rightarrow \text{reste} = 8 \text{ car } 208 = (20 \times 10) + 8$

$1\ 390 : 1\ 000 = 1 \rightarrow \text{reste} = 390 \text{ car } 1\ 390 = (1 \times 1\ 000) + 390$

**Problème :**

⑤ 1/ *Questions intermédiaires* : **Quelle somme possède maman ? Quel est le montant total de ses achats ?**

2/ *Questions intermédiaires* : **Combien Hélène a-t-elle lu de pages les 2 premiers jours ? Combien de pages lui reste-t-il à lire ?**

⑥ *Questions intermédiaires* : **Combien coûtent les 50 timbres à 0,46 € ?**

**Combien coûtent les 30 timbres à 0,69 € ?**

**Quelle est la dépense totale pour les timbres ?**


⑦ *Questions intermédiaires* : **Combien coûte la voiture avec le lecteur CD ?**

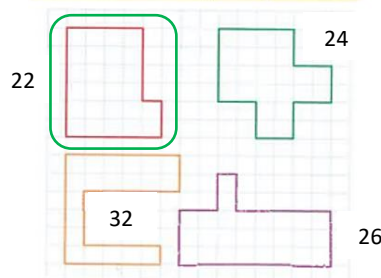
**Quelle somme M. Legrand doit-il au vendeur ?**


**A combien s'élève la somme qu'il paiera à crédit ?**

*Question finale* : **Quel sera le montant d'une mensualité ?**

**Mesure :**

 Aide-toi du quadrillage.



 Attention, on ne mesure que la longueur du contour de la figure.

