



Lundi – Mardi – Mercredi – Jeudi – Vendredi – Samedi – Dimanche

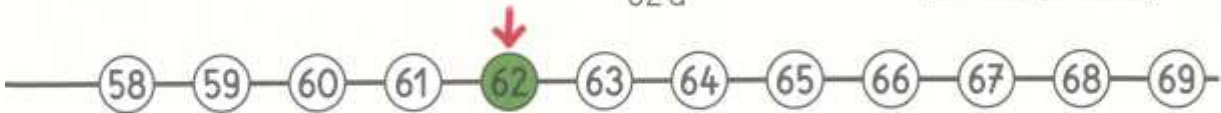

Lire et écrire les nombres jusqu'à 69

Interpréter les noms des nombres à l'aide des unités de numération et des écritures arithmétiques.

✓ J'écris les nombres de 60 à 69 de différentes manières.

d	u
6	2

62
 60+2
 10+10+10+10+10+10+2
 6d et 2u
 62u



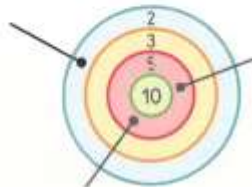
Écris les nombres en chiffres.

68	6d 8u
.....	6d 3u
.....	9u 6d
.....	1u 6d
.....	10 + 10 + 10 + 10 + 10 + 10 + 2
.....	10 + 10 + 10 + 10 + 10 + 10
.....	10 + 10 + 10 + 10 + 10 + 10 + 6
.....	10 + 10 + 10 + 10 + 10 + 10 + 5
.....	60 + 7
.....	4 + 60

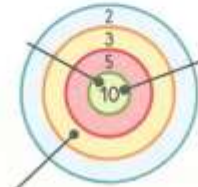
Calcule.



..... + + =



..... + + =



..... + + =



2 Écris le nombre qui vient juste avant et le nombre qui vient juste après.



61 — 62 — 63 —
 — 66 —

..... — 68 —

..... — 64 —

..... — 60 —

..... — 67 —

3 Écris les nombres à la bonne place.

(69) (64)
 64 < 69

(61) (65)
 <

(69) (63)
 <

(59) (67)
 >

(58) (46)
 >

(65) (56)
 >



4 Barre les billes en trop.



(62)

Two rows of three bags, each containing 10 beads. Total 60 beads.

(65)

Two rows of four bags, each containing 10 beads. Total 80 beads. 15 loose beads are scattered to the right.

(56)

Two rows of four bags, each containing 10 beads. Total 80 beads. 24 loose beads are scattered to the left.

(60)

Two rows of three bags, each containing 10 beads. Total 60 beads. 15 loose beads are scattered to the left.