

Cherchons



Le fort Jefferson vu d'avion



Plan du fort Jefferson

Le fort Jefferson est une forteresse bâtie au XIX^e siècle en Floride.

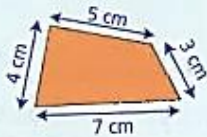
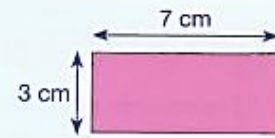
- Comment calculer la mesure du contour de cet édifice ?

Réponds oralement à la question.

Effectue les calculs sur ton ardoise.

Je retiens

- La **longueur du contour** d'une figure s'appelle le **périmètre**.
- On calcule le périmètre d'un polygone en **additionnant** la longueur de **tous ses côtés**.



$$P = 4 + 5 + 3 + 7 = 19$$

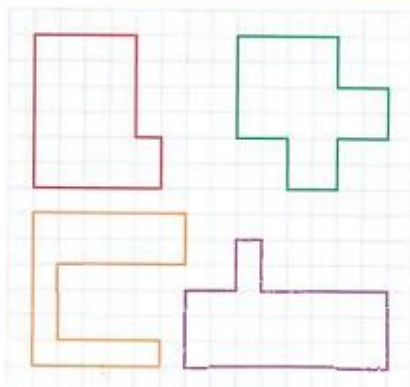
Le périmètre de ce polygone est de 19 cm.

Comparer des périmètres

- 1 * Détermine, parmi ces quatre polygones, lequel a le plus petit périmètre.



Aide-toi du quadrillage.



- 2 * Laquelle de ces deux figures a le plus grand périmètre ?



Attention, on ne mesure que la longueur du contour de la figure.

