

DICTÉE EN LIEN AVEC LE THÈME D'HISTOIRE - L'UNION EUROPÉENNE

N'OUBLIE PAS DE SOULIGNER LES NOMS, ADJECTIFS ET VERBES.

LA SECONDE GUERRE EST FINIE. LA FRANCE ET L'ALLEMAGNE DÉCIDENT DE SE RÉCONCILIER. ILS VONT PROPOSER AUX PAYS EUROPÉENS QUI LE SOUHAITENT DE S'UNIR DANS CE QU'ON APPELLERA L'UNION EUROPÉENNE. CETTE UNION PERMETTRA À L'EUROPE DE RESTER EN PAIX ET FACILITERA LE COMMERCE ENTRE SES PAYS MEMBRES.

L'AVENTURE COMMENCE EN MILLE NEUF CENT CINQUANTE SEPT. 6 PAYS S'UNISSENT. PUIS D'AUTRES VONT LES REJOINDRE. AUJOURD'HUI L'UNION EUROPÉENNE RASSEMBLE 27 PAYS EUROPÉENS SUR LES 50 EXISTANTS. L'UNION EUROPÉENNE S'EST CHOISIE UN DRAPEAU, UNE MONNAIE, UN HYMNE. MAIS CERTAINS MEMBRES CRITIQUENT LE FONCTIONNEMENT DE L'UNION. LE ROYAUME UNI A DÉCIDÉ DE QUITTER L'UNION EN 2020.

CARTE ART - L'ORIGAMI - L'ART DU PLIAGE PAPIER -

EN UTILISANT LES SUPPORTS DE TON CHOIX, RÉPONDS À CES QUESTIONS

- 1- DE QUEL PAYS VIENT CETTE FORME D'ART?
- 2- QUE SIGNIFIE LE MOT ORIGAMI?
- 3- NOMME 3 TECHNIQUES DE PLIAGE DE L'ORIGAMI?
- 4- COMMENT S'APPELLE LE MAÎTRE INCONTESTÉ DE CET ART?

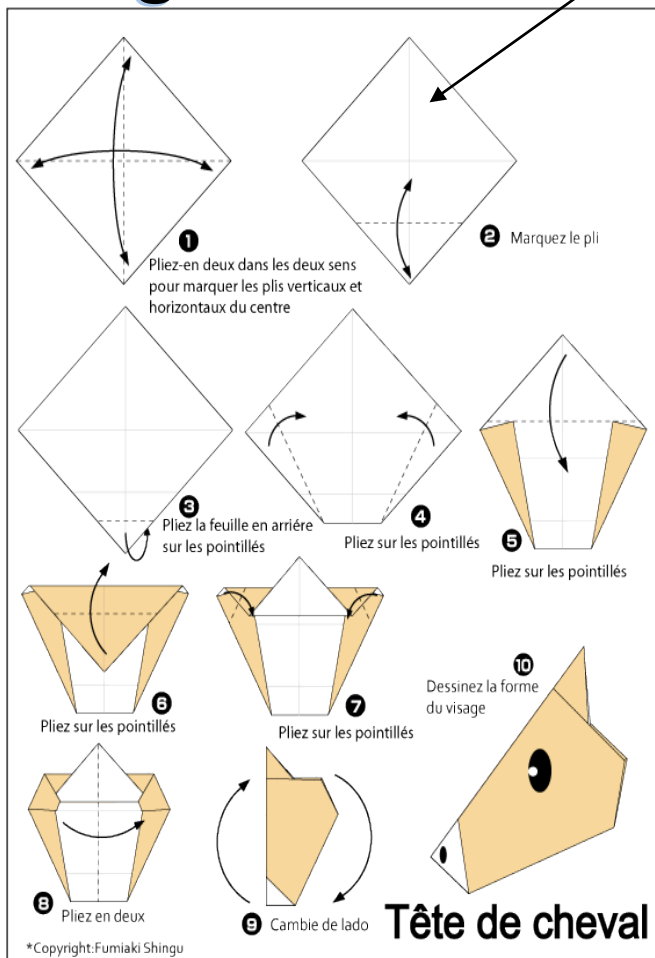


Défi paon (facultatif)

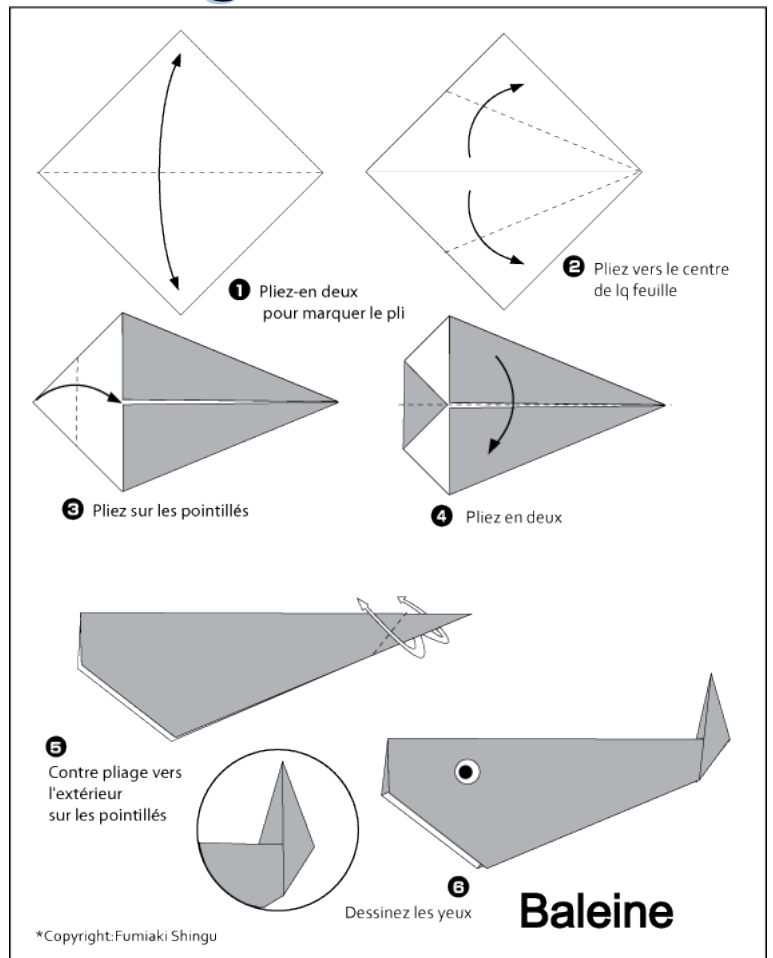
POUR RÉALISER UN ORIGAMI TU DOIS OBLIGATOIREMENT UTILISER UN PAPIER CARRÉ (15 OU 20 CM DE CÔTÉ)
SUR CETTE VIDÉO [YOUTUBE](#) JE TE MONTRE COMMENT FAIRE UN CARRÉ TRÈS RAPIDEMENT AVEC UNE FEUILLE.

VOICI 2 DÉFIS QUE TU AURAS DU RÉALISER LORS DES DÉFIS DE LA FORÊT QUE NOUS AURONS DU VIVRE AU COLLÈGE À LA FIN DU MOI. CHOISIS 1 DES 2 ET RÉALISE LE. BIEN ENTENDU TU PEUX RÉALISER LES 2 DÉFIS.

Origami n°1



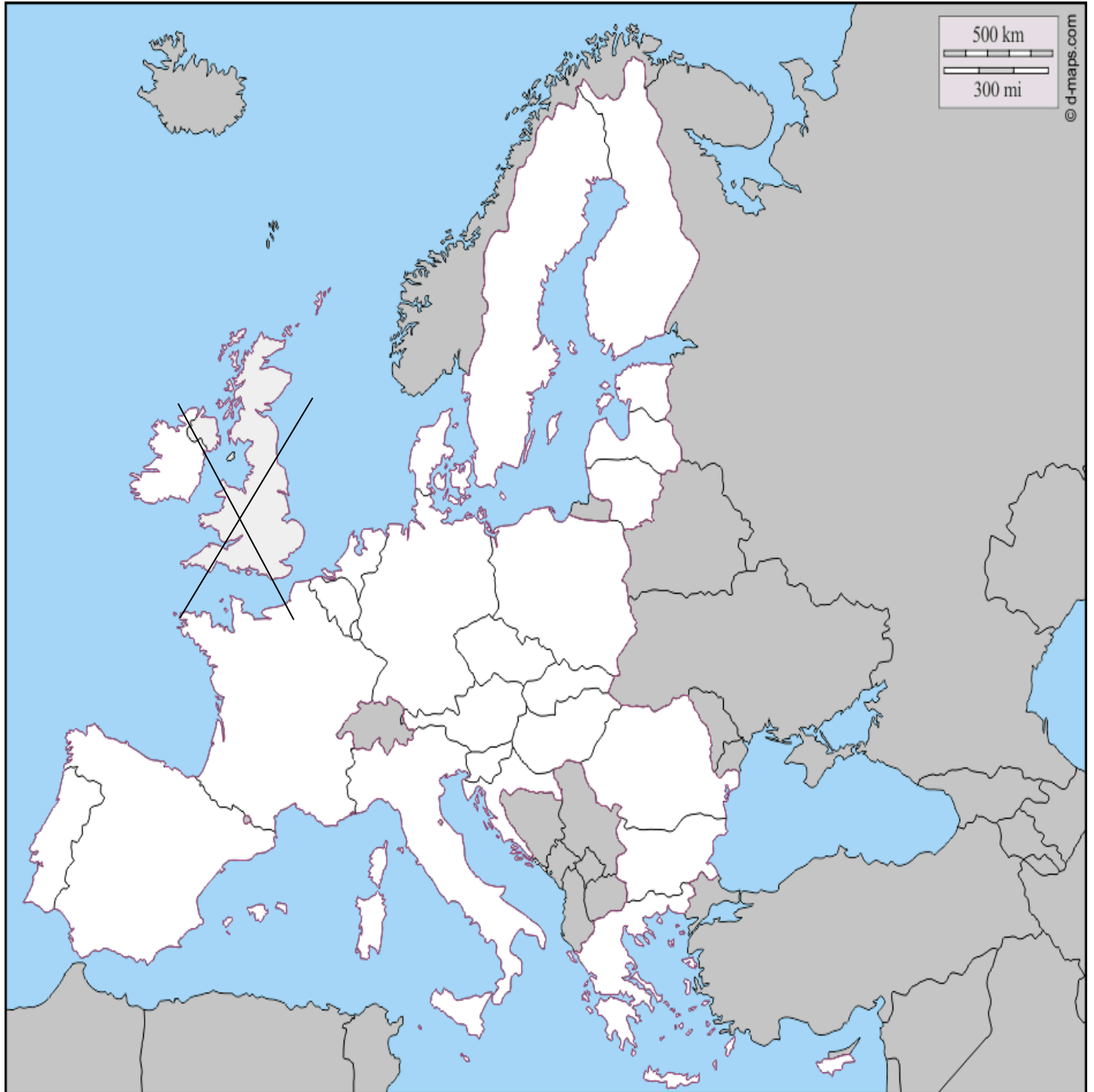
Origami n°2



Les pays membres de l'Union européenne

L'Union européenne compte 27 États membres de tailles différentes et aux modes d'organisation institutionnelle variés. L'Union européenne compte au total plus de 508 millions d'habitants et couvre une superficie de 4,5 millions de km².

Les 27 États membres sont l'Allemagne, l'Autriche, la Belgique, la Bulgarie, Chypre, la Croatie, le Danemark, l'Espagne, l'Estonie, la Finlande, la France, la Grèce, la Hongrie, l'Irlande, l'Italie, la Lettonie, la Lituanie, le Luxembourg, Malte, les Pays-Bas, la Pologne, le Portugal, la République tchèque, la Roumanie, la Slovaquie, la Slovénie et la Suède.



Par

Légende

<input type="checkbox"/>	<input type="checkbox"/>	<input type="checkbox"/>
<input type="checkbox"/>	<input type="checkbox"/>	<input type="checkbox"/>
<input type="checkbox"/>	<input type="checkbox"/>	<input type="checkbox"/>
<input type="checkbox"/>	<input type="checkbox"/>	<input type="checkbox"/>

LE PÉRIMÈTRE DU CERCLE -

TU AS APPRIS QUE POUR CALCULER LA CIRCONFÉRENCE D'UN CERCLE IL FAL-
LAIT UTILISER LA FORMULE

$$P = D \times \pi$$

PROBLÈME N°1 ☆

UN CHAPEAU ROND DE 60CM DE DIAMÈTRE SERA ENTOURÉ D'UN RUBAN BLEU. QUELLE EST LA LONGUEUR DE CE RUBAN?

PROBLÈME N°2 ☆ ☆

QUELLE EST LA LONGUEUR D'UN CERCLE DONT LE RAYON MESURE 3,5CM?

N'oublie pas de faire
tes schémas.

PROBLÈME N°3 ☆ ☆ ☆

UNE ENSEIGNE PUBLICITAIRE À LA FORME D'UN DEMI CERCLE. CE DEMI CERCLE A UN RAYON DE 1,5M. CETTE EN-
SEIGNE SERA ENTOURÉE D'UN TUBE LUMINEUX VIOLET. QUELLE SERA LONGUEUR DU TUBE À PRÉVOIR?