

Plan de travail

Conjugaison :

Conjugué les verbes au passé composé.

Nous **avons été** curieux.

Mes frères **ont eu** un vélo de course.

Elle **a eu** chaud à la plage.

Vous **avez été** malades en même temps.

Ils **ont été** à l'abri de la tempête.

Calcul mental :

1	13	71	26	19	83	6	11	19	43	29	17	1	26	26	19
3	6	4	73	24	1	32	13	41	29	43	69	3	1	6	17
73	3	12	8	16	32	16	79	13	71	3	41	73	6	11	83
19	41	16	4	32	8	12	26	79	6	1	15	25	30	5	6
23	57	91	9	18	27	19	11	19	13	5	1	13	11	19	11
6	13	10	54	18	31	19	26	50	86	79	42	21	73	79	
11	30	25	18	27	54	13	43	79	25	43	49	13	29	49	17
13	73	19	81	18	54	43	6	19	15	11	19	73	83	6	19
1	29	9	27	54	9	31	38	43	10	11	4	32	38	79	38
79	18	81	18	81	54	18	9	81	27	18	91	6	24	11	83
91	81	54	9	81	7	21	14	7	9	27	73	1	16	86	13
73	18	9	27	14	42	14	49	21	14	81	2	13	38	19	11
83	26	27	81	54	27	40	14	27	81	1	6	91	11	43	83
11	79	54	9	18	18	27	81	54	9	38	26	79	29	13	46
6	19	13	6	91	5	31	73	10	83	11	83	6	38	86	31
26	86	17	26	79	25	38	79	15	11	3	11	26	43	13	73
38	43	19	91	30	50	73	10	50	79	73	38	1	29	38	91
43	11	23	31	1	43	69	86	19	13	33	43	86	26	43	79

Calcul :

Pose et calcule les opérations suivantes :

$$\begin{array}{r}
 8 \ 1 \ 10 \ 14 \ 5 \\
 - \ 1+2 \ 1+9 \ 1+6 \ 7 \ 2 \\
 \hline
 5 \ 1 \ 3 \ 7 \ 3
 \end{array}$$

$$\begin{array}{r}
 \textcircled{0} \\
 \hline
 3 \ 2 \ 3 \ 6 \\
 2 \ 4 \ 2 \ 7 \ 0 \\
 \hline
 2 \ 7 \ 5 \ 0 \ 6
 \end{array}$$

$$\begin{array}{r}
 \\
 \hline
 2 \ 3 \ 7 \ 6 \\
 1 \ 4 \ 8 \ 5 \ 0 \\
 \hline
 1 \ 7 \ 2 \ 2 \ 6
 \end{array}$$

Problème :

Sarah réalise une mosaïque avec 6 rangées de 17 carreaux.

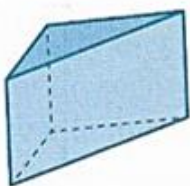
Combien de carreaux utilise-t-elle ?

$$17 \times 6 = 102$$

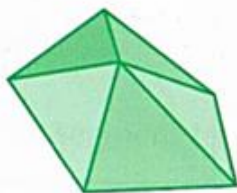
Elle a utilisé 102 carreaux.

Géométrie :

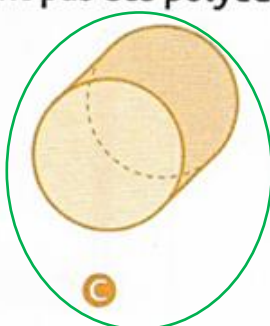
1 * Retrouve les solides qui ne sont pas des polyèdres.



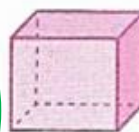
A




B



C



D



E



F