

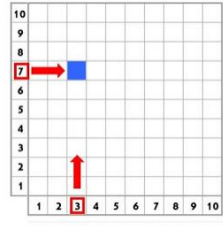
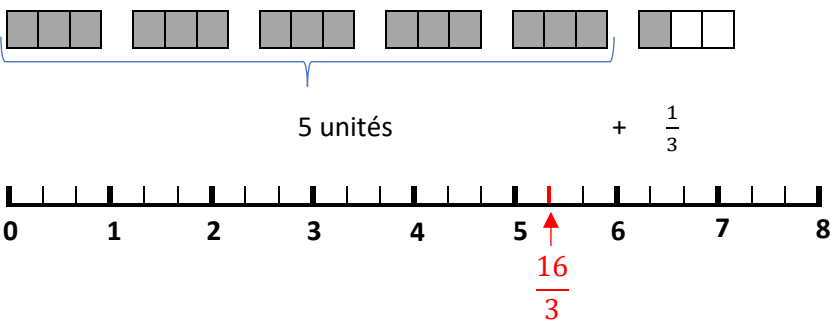


Plan de travail		Outils à disposition																																			
①	Date du jour : <u>Ecris</u> la date en anglais sur ton cahier du jour. Monday, 15 th June	▸ Cahier du jour																																			
②	Orthographe : Aujourd'hui, <u>apprends</u> à écrire les mots des listes  et  . <u>Utilise</u> ton ardoise.	▸ Mémo de français ▸ Ardoise																																			
③	Grammaire : a. Aujourd'hui, ce sont les compléments circonstanciels que nous allons revoir. 1) Tu dois trouver le(s) verbe(s) (toujours conjugué(s)). 2) Tu poses la question <i>Quand ? Où ? Comment ?</i> après ce(s) verbe(s). 3) Exemple : Elie <i>est allé</i> à la bibliothèque. 4) Je trouve le verbe = <u>est allé</u> 5) Je pose la question Elie <u>est allé</u> où ? 6) Réponse : à la bibliothèque J'ai trouvé un Complément Circonstanciel de Lieu . b. <u>Fais</u> l'exercice sur ton cahier du jour. ★ Souligne les compléments circonstanciels. Ma mère répare mon vélo dans le garage. Les passagers ont rapidement récupéré leurs bagages. Dans la salle de cinéma, les spectateurs regardent le film en silence. Après un long voyage, nous avons vu la mer. Mon grand-père fait tous les jours une sieste après le déjeuner. Une cigogne a fait son nid sur le toit de notre maison au printemps dernier.	▸ Cahier du jour																																			
④	Conjugaison : (<i>Découpe et colle cet exercice sur ton cahier du jour.</i>) ★ Conjugu e le verbe <i>plonger</i> aux temps proposés.	▸ Cahier du jour																																			
	<table border="1"> <thead> <tr> <th></th> <th>Présent</th> <th>Imparfait</th> <th>Futur</th> <th>Passé composé</th> </tr> </thead> <tbody> <tr> <td>Je, j'</td> <td></td> <td></td> <td></td> <td></td> </tr> <tr> <td>Tu</td> <td></td> <td></td> <td></td> <td></td> </tr> <tr> <td>Elle</td> <td></td> <td></td> <td></td> <td></td> </tr> <tr> <td>Nous</td> <td></td> <td></td> <td></td> <td></td> </tr> <tr> <td>Vous</td> <td></td> <td></td> <td></td> <td></td> </tr> <tr> <td>Ils</td> <td></td> <td></td> <td></td> <td></td> </tr> </tbody> </table>		Présent	Imparfait	Futur	Passé composé	Je, j'					Tu					Elle					Nous					Vous					Ils					
	Présent	Imparfait	Futur	Passé composé																																	
Je, j'																																					
Tu																																					
Elle																																					
Nous																																					
Vous																																					
Ils																																					
⑤	Lecture : ★ Prends une nouvelle fiche, lis le texte et réponds aux questions qui sont au verso. Ne fais pas aujourd'hui la partie « Le sais-tu ? ».	▸ Fichier de lecture silencieuse																																			
⑥	Calcul mental : ★ a. Rappelle-toi des fiches <i>Multi Pixel</i> . Tu dois d'abord compléter les tables. Et ensuite, il faut colorier les cases. <div style="display: flex; align-items: center; justify-content: center;"> <div style="text-align: center;"> <p>Bleu 3 x ... = 21</p> </div> <div style="margin: 0 10px;">→</div> <div style="text-align: center;"> <p>Bleu 3 x 7 = 21</p> </div> <div style="margin: 0 10px;">→</div> <div style="text-align: center;">  </div> </div> b. <u>Complète</u> les multiplications du Muti Pixel n°5. c. <u>Colorie</u> la grille en respectant les couleurs.	▸ Fiche <i>Multi Pixel</i> n°5																																			

<p>⑦</p> <p>☆</p>	<p>Numération :</p> <p>Aujourd'hui, tu vas t'entraîner à placer des fractions sur une droite graduée.</p> <p>Exemple : $\frac{16}{3} = 5 + \frac{1}{3}$</p> 	<p>▸ Fiche <i>Placer une fraction sur une ligne graduée.</i></p>
<p>⑧</p> <p>☆</p> <p>☆</p> <p>☆</p> <p>☆</p>	<p>Calcule :</p> <p>Pose et calcule les divisions suivantes :</p> <p>544 : 3 = 807 : 6 =</p> <p>925 : 4 = 734 : 5 =</p>	<p>▸ Cahier du jour</p>
<p>⑨</p> <p>☆</p>	<p>Mesure :</p> <p>Recopie et complète avec <, > ou =.</p> <p>2 000 g ... 2 kg</p> <p>700 mg ... 7 g</p> <p>3 kg ... 300 g</p> <p>8 hg ... 800 g</p> <p>90 g ... 9 dg</p> <p>12 000 g ... 12 kg</p> <p>1 000 mg ... 1 kg</p> <p>500 cg ... 5 g</p>	<p>▸ Cahier du jour</p>
<p>⑩</p> <p>☆</p>	<p>Problème :</p> <p>Molière et Jean Racine ont vécu à la même époque.</p> <p>Molière est né en 1 622. Il est mort en 1 673.</p> <p>Racine est né 17 ans après Molière. Il est mort 26 ans après lui.</p> <p>Quelles sont les dates de naissance et de mort de Racine ?</p>	<p>▸ Cahier du jour</p>

Ces deux hommes ont écrit de nombreuses pièces de théâtre. On dit qu'ils sont des *dramaturges*.