

**CARTE ORTHOGRAPHE - LES NOMS FÉMININS EN TÉ, TIÉ, ÉE PENSE À TOUTES LES RÈGLES AVANT DE FAIRE L'EXERCICE**



**COMPLÈTE LES NOMS FÉMININS**

UNE ARRIV....	LA SOLIDIT....	UNE JET....	LA DICT.....	UNE PENS....	LA VALIDIT.....	LA ROS.....
UNE PORT.....	L'ÉGALIT.....	LA LIBERT.....	LA FRATERNIT.....	UNE DRAG.....	LA GEL.....	
UNE MOIT....	LA PIT.....	L'AMIT.....	LA PÂT....	UNE BOUFF....	LA STABILIT.....	

**CARTE FAMILLE DE MOT - PENSE À TOUTES LES RÈGLES AVANT DE FAIRE L'EXERCICE**



**TROUVE UN MOT DE LA MÊME FAMILLE EN RESPECTANT LA NATURE DU MOT DEMANDÉ**

UNE HISTOIRE = L'ADJECTIF.....	UN CARRÉ= LE NOM .....
LA TERRE = LE NOM.....	UN COUREUR = LE VERBE.....
FIXER = LE NOM .....	SOLIDE = LE VERBE .....
DÉMONTER = LE NOM .....	LUMIÈRE = LE VERBE .....

**CARTE HOMOPHONES - PENSE À TOUTES LES RÈGLES AVANT DE FAIRE L'EXERCICE**



LA NAGEUSE (A) PARCOURU UNE LONGUE DISTANCE DANS (CES) EAUX AGITÉES. ELLE (CES) DÉPASSÉ (ET) (ET) ARRIVÉE TRÈS FATIGUÉ. (CES) UNE INCROYABLE PERFORMANCE (QUEL) (A) RÉALISÉE. (ON) LA APPLAUDI ET (TOUT) LES SPECTATEURS (ON) SALUÉ (SON) COURAGE. (QUEL) FORCE !

**CARTE ACCORD - PENSE À TOUTES LES RÈGLES AVANT DE FAIRE L'EXERCICE**



LES (POU) SONT DES (BÊTE) (CORIACE).

TOUS LES (MARTEAU) SONT (RANGÉ) PAR TAILLE.

LES (VITRAIL) (COLORÉ) DE CETTE (ÉGLISE) (ABANDONNÉ) SONT TRÈS (ABÎMÉ).

LES (JOYAU) (ÉTINCELANT) DE LA (COURONNE) (ROYAL) ONT ÉTÉ (DÉROBÉ).

CES (ACTIVITÉ) (SPORTIF) SONT (ESSENTIEL) POUR NOTRE SANTÉ.

**CARTE COMPLÉMENT - PENSE À TOUTES LES RÈGLES AVANT DE FAIRE L'EXERCICE**



SOULIGNE EN ROUGE LE VERBE CONJUGUÉ, EN VERT SON SUJET ET EN NOIR LE OU LES COMPLÉMENTS.

DEMAIN NOUS IRONS VOIR LES ACROBATES DE CE MAGNIFIQUE CIRQUE.

LES PETITS CHIENS COURAIENT APRÈS LE BALLON BLEU QUI DÉVALAIT LA PENTE.

AVEC SON MARTEAU, CE BRICOLEUR FABRIQUE UNE SPLENDIDE MEUBLE.

LES POMPIERS SORTENT LES CAMIONS ROUGES DE LEUR HANGAR.

IL EST SOUVENT RESTÉ À LA MAISON PENDANT LES VACANCES.

NOUS IRONS À LA PISCINE QUAND ILS VIENDRONT NOUS VOIR.

**PROBLÈME (FAIS UN SCHÉMA)**



UN JARDINIER VEUT ENTOURER D'UNE BANDE SOUPLE SON POTAGER CIRCULAIRE DE 2,5M DE RAYON. QUELLE LONGUEUR DE BANDE LUI FAUDRA-T-IL?

**PROBLÈME (FAIS UN SCHÉMA ET PRÉSENTE BIEN TON PROBLÈME) - FACULTATIF**



A L'ASSEMBLÉE NATIONALE, ON VEUT METTRE UNE BANDE DE TAPIS BLEU AUTOUR DE L'ARC DE CERCLE DE L'HÉMICYCLE DE 20M DE DIAMÈTRE. QUELLE SERA LA LONGUEUR DE LA BANDE DE TAPIS À PRÉVOIR? SACHANT QUE LE TAPIS EST VENDU 45€ LE MÈTRE, QUEL SERA LE COÛT DE CE TAPIS?

**PROBLÈME**



LES 2/3 D'UNE CLASSE DE 26 ÉLÈVES FONT DU SPORT. COMBIEN D'ÉLÈVES NE PRATIQUENT PAS D'ACTIVITÉ SPORTIVE?

**PROBLÈME (FAIS UN SCHÉMA ET PRÉSENTE BIEN TON PROBLÈME)**



UN RECTANGLE DE 225M DE PÉRIMÈTRE A UNE LONGUEUR DE 60M. QUELLE EST LA DIMENSION DE SA LARGEUR?

**PROBLÈME (FAIS UN SCHÉMA)**

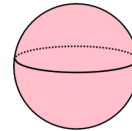
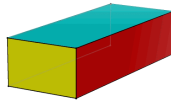
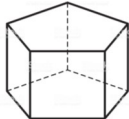
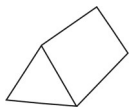


UN CHAMP CARRÉ DE 25M DE CÔTÉ EST SEMÉ DE BLÉ. AVEC 1 SAC DE GRAINES JE PEUX SEMER 50M<sup>2</sup>. DE COMBIEN DE SACS AURAI-JE BESOIN?

**CARTE SOLIDE**



1-NOMME CES DIFFÉRENTS SOLIDES



2- DÉCRIS CE SOLIDE CORRECTEMENT (NOM, NOMBRE ET FORME DES FACES, SOMMETS, ARÈTES)

DESSINE SON PATRON

