

# l'heure

CE1



PRÉNOM: .....

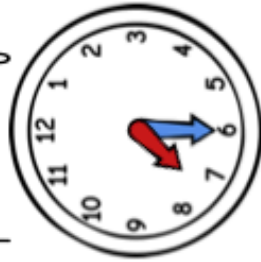
① Complète avec les mots « mois », « jours » ou « heures ».

1 année = 12 \_\_\_\_\_ | 1 mois = 28, 29, 30 ou 31 \_\_\_\_\_ | 1 jour = 24 \_\_\_\_\_

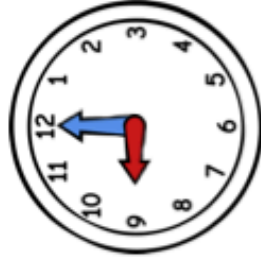
② Écris l'heure sous chaque horloge.



h \_\_\_\_\_



h \_\_\_\_\_



h \_\_\_\_\_



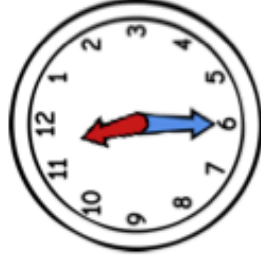
h \_\_\_\_\_



h \_\_\_\_\_



h \_\_\_\_\_




h \_\_\_\_\_


③ Trace les aiguilles (rouge pour les heures, bleue pour les minutes).




6 h 00



1 h 30




8 h 00



5 h 30



12 h 00



9 h 30



7 h 00