

Prénom : \_\_\_\_\_

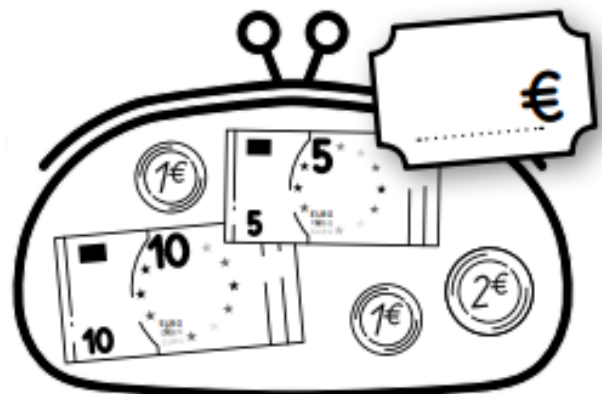


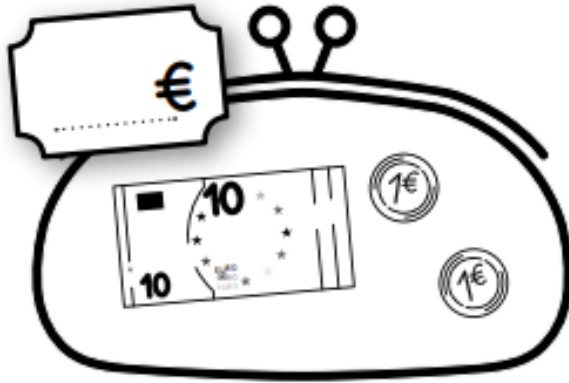
Date : \_\_\_\_\_

GRANDEURS ET MESURES	RESOUDRE DES PROBLEMES IMPLIQUANT DES PRIX (2)	Entraînement
----------------------	--	--------------

**Objectif :** Résoudre des problèmes additifs en utilisant les euros.

**Exercice 1**

Consigne : Écris la somme dans chaque portemonnaie.




**Exercice 2**


Consigne : Dessine les pièces et les billets puis calcule la somme contenue dans le porte-monnaie.




$$10 + 5 + 1 = 16$$



$$10 + 2 + 2 + 5 = \dots$$



$$10 + 10 + 1 = \dots$$



$$10 + 5 + 10 + 1 = \dots$$

